



Miskolc - Szirmai Református Általános Iskola, AMI és Óvoda
OM 201802

e-mail: refiskola.szirma@gmail.com

3521 Miskolc, Miskolci u. 38/a.

Telefon: 46/405-124; Fax: 46/525-232

Iskola: _____
Csapatnév: _____

4. osztályos feladatsor III. forduló

2016/2017. tanév

1.

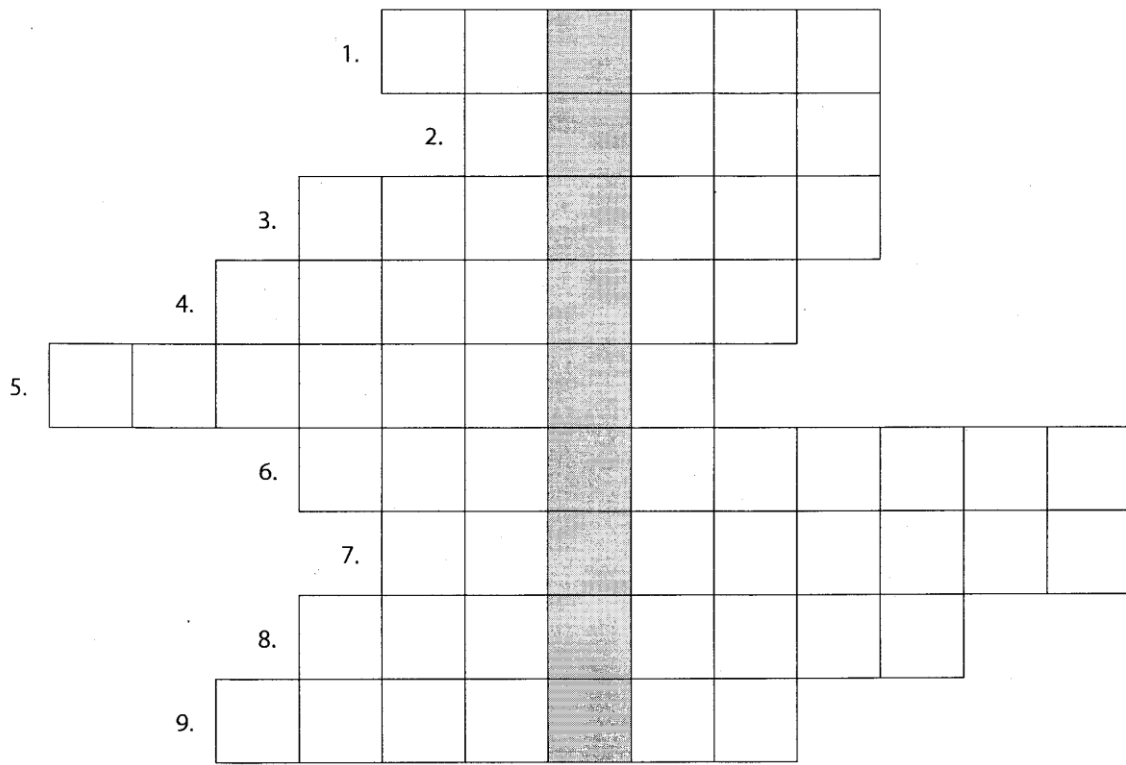
a, Keressétek meg, és írjátok le melyik hegységhez tartoznak a következő hegycsúcsok, és írjátok oda a magassági számukat is!

Hegycsúcs	Hegység	Magassági szám
Kóris-hegy		
Dobogó-kő		
Írott-kő		
Purga		
Nagy-Milic		
Bálvány		

b, A következő városok Miskolctól milyen irányban és milyen távolságra fekszenek?

Város	Irány	Távolság
Pécs		
Sárospatak		
Kalocsa		
Salgótarján		
Kőszeg		
Nyíregyháza		

2. Szeged leghíresebb épülete, a város egyik jelképe: a dóm. A rejtvény megfejtéséből megtudod, hogy mi a másik neve:



1. Hazánk melyik tájegységén található Szeged?
2. Szent-Györgyi Albert a C-vitamin felfedezéséért milyen díjat kapott?
3. Márciustól melyik új lakó élete követhető web kamerán a vadasparkban?
4. Mi a vezetékneve a szegedi Mátyás-templom névadójának?
5. Ez a kis állat a vadaspark egyik ritkasága.
6. Melyik híres írónkról nevezték el a város legnagyobb múzeumát?
7. Melyik városban található a szegedi Mátyás-templom hasonmása?
8. Hányadik legnagyobb városa hazánknak Szeged?
9. Erről a fűszernövényről (is) híres Szeged.

_____ templom.

3. Magyarország kvíz

Karikázzátok be a helyes válaszok előtti betűjelet!

1. Hol található a Feszty-körkép?

- a) Szentendre b) Ópusztaszer c) Hortobágy

2. Melyik nem a Tisza mellékfolyója?

- a) Sajó b) Bodrog c) Zala

3. Milyen irányban fekszik Gyulától Budapest?

- a) ÉNy b) DK c) DNy

4. Melyik ország határolja hazánkat északról?

- a) Szlovénia b) Szlovákia c) Románia

5. Hány nemzeti parkunk van?

- a) 9 b) 10 c) 11

6. Mi a megyeszékhelye Nógrád megyének?

- a) Eger b) Nyíregyháza c) Salgótarján

7. Melyik tájunk része a vadállományáról híres Gemenci erdő?

- a) Sárköz b) Nyírség c) Hanság

8. Milyen kőzetek építik fel a Velencei-hegységet?

- a) mészkő b) gránit c) andezit

9. Hol található a Széchenyi család kastélya?

- a) Fertőd b) Balf c) Nagycenk

10. Hogyan hívjuk a Dráva menti mocsaras vidék száraz kiemelkedéseit?

- a) „kunhalmoknak” b) „ormányoknak” c) „berkeknek”

11. Miről híres Bugac?

- a) ósnádasáról b) ósborókásáról c) lápréteiről

12. Hány megyére tagolódik Magyarország?

a) 18

b) 19

c) 20

13. Melyik ásványkincsből állítják elő a „magyar ezüstöt”?

a) feketeköszénből

b) vasércből

c) bauxitból

14. Hol található a „Pepi-kert” nevű arborétum?

a) Zircen

b) Debrecenben

c) Szarvason

15. Melyik Magyarországi gyógyfürdő vize úgynevezett „radioaktív” (radonos)?

a) Miskolctapolca
Barlangfürdő

b) Mezőkövesd Zsóry

c) Hajdúszoboszló
Hungarospa

15	
----	--

4. Hortobágy-kvíz

1. Karikázd be, melyik állítás igaz a Kilenclyükú hídra!

a) Az 1800-as években Debrecen város emeltette

b) A Berettyó folyó fölött emelkedik

c) Gyalogosok járhatnak csak rajta

2. Mit jelent a szilaj pásztorkodás?

a) Az állatok a telet is a szabadban töltötték

b) A pásztorok a szabad ég alatt aludtak

c) A szilaj marhából nem volt szabad ennie a magyar embernek

3. Mit neveztek a XIX. században vasalónak a Hortobágyon?

a) Az állatok letaposták a füvet, ezért a sima vidék kialakításáért így hívták őket

b) A csárdában vasedényekben főzték a bográcsgulyást, ezért a csárda másik neve volt

c) A pásztorok téli-nyári szállása és főzőhelye volt

4. Augusztus 20-án érdemes Hortobágyra menni, mert

a) délibábot lehet látni

b) ekkor rendezik meg a hídi vásárt

c) ekkor van a virágkarnevál

5. Mi a hodály?

a) A juhok befogadására alkalmas, nádból majd vályogból készült épület

b) Vízi vérszívó állat, amit gyógyításra használnak

c) A dagály ellentéte, alacsony vízállás a folyókon

6. Mit jelent a fényszennyezés?

- a) A fény hatására megváltozik a növények színe
- b) A fénytől kifakulnak a ruhák
- c) A nagyvárosok nagy éjszakai kivilágítása miatt nem lehet látni a csillagokat

7. Mi a délibáb?

- a) Az eltérő hőmérsékletű levegőrétegek találkozásánál különleges tükröződés jön létre: a gémeskút az égen fejjel lefelé látszik
- b) Bábszínház délidőben
- c) Hortobágy déli részén látható különös égi jelenség

8. Hortobágy madárparadicsom, mert

- a) itt van a paradicsommadár költőhelye
- b) az Öregtavaknál több száz madárfaj fészkel
- c) a nádi poszáta, a kanalas gém és a függőcinege csak átvonul a puszta fölött

9. A Hortobágyi Nemzeti Park nem mindenütt sík vidék, mert

- a) itt-ott kisebb-nagyobb mélyedések vannak a felszínén
- b) a bronzkor óta 12 m magas kunhalmok, temetkezési helyek is vannak itt
- c) mert egy része a tengerszint alatt fekszik

10. Ma már az állattartásra a félszilaj forma jellemző, mert

- a) mert fele-fele arányban tartanak sertést és juhot
- b) a gulyát a halastavakhoz hajtják dagonyázní
- c) az őszi Szent Mihály-naptól a tavaszi Szent György-napig zárt helyen tartják az állatokat

11. A juhász subát visel és a botja kampós végű, mert

- a) a subáját a birka bőréből készítette, a botjával pedig el tudta kapni a birkát a lábánál fogva
- b) az állatokra vigyázó embereket a botjuk és az öltözetük alapján lehet megkülönböztetni
- c) a suba nyáron nagyon meleg és a botra akasztja ha leveszi

12. A Hortobágyon időnként sok vadludat és darut lehet látni, mert

- a) a barna réti héja nem mindig rájuk vadászik
- b) a nagy füves pusztája és a tavai táplálkozó-, pihenő- és gyülekezőhely a költöző madaraknak
- c) látcsövön keresztül észre lehet venni őket

13. A Hortobágy jellegzetes növényei:

- a) az árvalányhaj, barázdás csenkesz, és macskahere
- b) fenyőfa, gólyahír, sziksó
- c) tűzok, fattyúszerkő

14. A Hortobágyi csárda küszöbe

- a) tölgyfából készült
- b) zöldre van festve
- c) a legenda szerint a tengerszinthez mért magasságát tekintve a debreceni Nagytemplom tornyával azonos magasságban van

15. A nagy kiterjedésű ligeterdők, mocsarak mára már eltűntek a Hortobágyról, mert
- a) kevés eső esik és nagyon magas a napsütéses órák száma
 - b) a XIX. században szabályozták a Berettyót és a Tiszát, ezért megszűnt a vízutánpótlás
 - c) soha nem is voltak, hiszen a Hortobágy a szikes talajáról híres

15	
----	--

5. Totó a Dunáról

Válaszolj a Dunával kapcsolatos kérdésekre!

1. Hol ered a Duna?

1. Királyi- erdő, Románia 2. Bécsi- erdő, Ausztria X. Fekete-erdő, Németország

2. Hány országon folyik keresztül?

1. 8

2. 10

X. 12

3. Melyik országban folyik a leghosszabb szakasza?

1. Románia

2. Magyarország

X. Németország

4. Melyik magyarországi várost nem érinti?

1. Esztergom

2. Paks

X. Szeged

5. Melyik a két legnagyobb mellékfolyója?

1. Rába és Dráva

2. Kőrös és Maros

X. Zagyva és Galga

6. Ki írta a Dunánál című verset?

1. Ady Endre

2. Arany János

X. József Attila

7. Hová torkollik a Duna?

1. Fekete- tenger

2. Égei- tenger

X. Adriai- tenger

8. Mi a folyó latin neve?

1. Alba Regia

2. Sopiane

X. Danubius

9. Melyik partján épült az Országház?

1. jobb

2. bal

X. Csepel sziget

10. Hány méter a legmélyebb szakasza?

1. 10 m

2. 50 m

X. 70 m

11. Melyik halat nem a Dunából fogták ki?

1. ingola

2. makréla

X. csuka

12. Európában melyik folyó hosszabb, mint a Duna?

1. Volga

2. Rajna

X. Szajna

13. A Duna Bizottság feladata:

1. A dunai hidak
karbantartása

2. A dunai hajózás
felügyelete

X. A folyó élővilágának
fenntartása, védelme

13+1 Melyik zeneszerző írt a Dunáról keringőt?

1. Wolfgang Amadeus
Mozart

2. Kodály Zoltán

X. Johann Strauss

14	
----	--

6. Hol találhatóak ezek a különleges képződmények, építmények? Írd a képek alá mik ezek és mely településekhez köthetők?





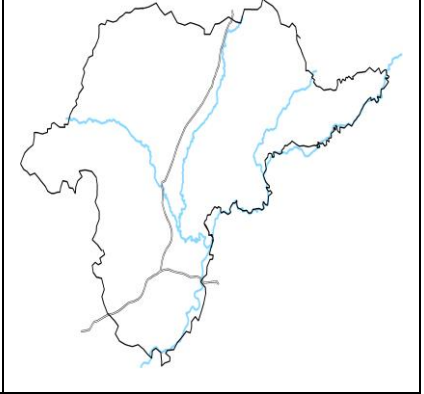
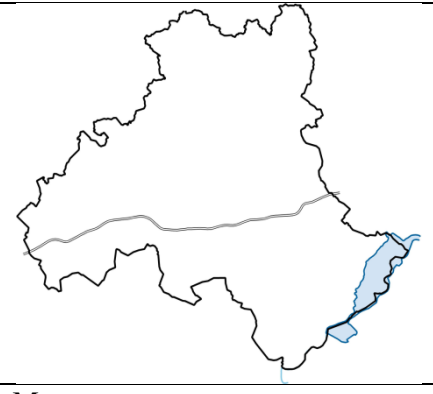
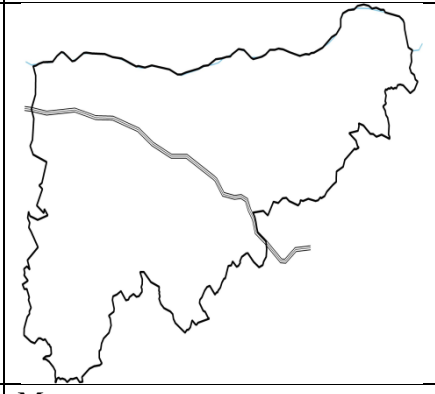
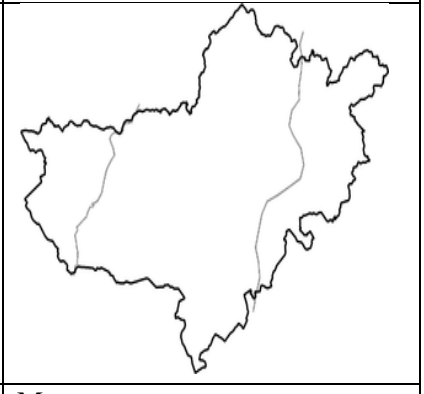


--

--

--



7. Az előző feladatban szereplő települések melyik megyéhez köthetőek? Írd be a megyék nevét és a hozzájuk tartozó települést!

		
Megye:	Megye:	Megye:
Település:	Település:	Település:
		
Megye:	Megye:	Megye:
Település:	Település:	Település:
		
Megye:	Megye:	
Település:	Település:	

8. Nevezd meg a képen látható dolgokat! Mi a közös bennük?



1. _____
2. _____
3. _____
4. _____
5. _____
6. _____
7. _____
8. _____

Közös nevük:

9	
---	--

9. Készíts egy rajzot A/4-es méretben, az előző feladat témájához, tetszőleges technikával Magyarország kiemelkedő nemzeti értékeinek bemutatására!

5	
---	--

Összesen:

136	
-----	--

A feladatsor beküldésének határideje: 2017. március 13.